



Lamastre ville

Echelle : 1 / 3 000

1 cm carte = 30 m terrain



LEGENDE

- Route
- Chemin carrossable
- Chemin
- Sentier
- Sentier peu visible
- Mur infranchissable
- Mur
- Clôture infranchissable
- Clôture
- Construction passage souterrain
- Ligne électrique
- Pont - Croix
- Objet particulier
- Borne - Tour - Affut
- Charbonnière
- Courbes de niveau
- Abrupt de terre
- Talus - Fossé
- Trou - Butte
- Cuvette - Dépression

- Falaises
- Trou rocheux - **DANGER III**
- Rocher - Blocs rocheux
- Zone rocheuse
- Source - Ruisseau
- Marais
- Particularités hydrographiques
- Lac
- Limites nettes de végétation
- Arbre isolé - Fourré - Souche
- Vignoble
- Terrain découvert
- Terrain cultivé
- Terrain découvert encombré
- Végétation basse
- Zone semi-ouverte encombrée
- Zone semi-ouverte
- Parking
- Zone privée d'habitation

Pénétrabilité de la forêt:

100	80	50	10	0%
-----	----	----	----	----

zone interdite

Equidistance: 2.5 m

Différence de 2.5 m d'altitude entre 2 courbes de niveau (lignes marrons)



ESPACE SPORTS D'ORIENTATION



3 Parcours Permanents d'Orientation

Renseignements :

Office de Tourisme et sites internet :
- www.lamastre.fr
- www.otpayslamastre-ardeche.com

Poinçonnez dans les bonnes cases et dans l'ordre indiqué

Le P'titou
Longueur 1.4 km

Définitions

Départ Office de Tourisme

- 1. 61 Arbre
- 2. 62 Escalier au pied
- 3. 63 Panneau d'information
- 4. 64 Poteau signalétique
- 5. 65 Angle de mur
- 6. 66 Angle de barrière
- 7. 67 Particularité dans le mur
- 8. 68 Sous la passerelle
- 9. 69 Escalier en haut
- 10. 73 Panneau d'information
- 11. 74 Bac à fleurs
- 12. 75 Fontaine à l'angle de mur
- 13. 76 Extrémité de barrière

Arrivée Office de Tourisme

1-61	8-68
2-62	9-69
3-63	10-73
4-64	11-74
5-65	12-75
6-66	13-76
7-67	



Carte de course d'orientation N°2015-D07-115

Carte de base : Lamastre village	Surface : 0.47 km²
Relevés : OCAD 10 et GPS	Dessin : Juin 2016 - CDCO 07
Distribution : Office de Tourisme	
La possession de cette carte n'implique pas un droit d'accès permanent. Une autorisation doit être demandée aux propriétaires des terrains. Autorisation d'accès (mairie, ONF, etc.)	
Numéro d'urgence : 15 ou 112	
Toute reproduction ou adaptation sous quelque forme et par quelque procédé que ce soit, même partielle, est interdite.	©FFCO-2016
Coordonnées : 04 75 06 48 99	



Retrouvez tous les ESO de la Région Rhône-Alpes sur :
tinyurl.com/ppoesora



AUVERGNE Rhône-Alpes


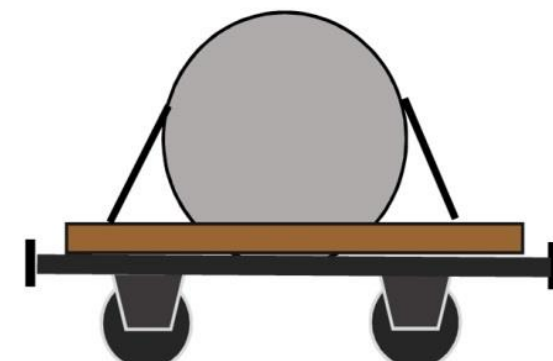



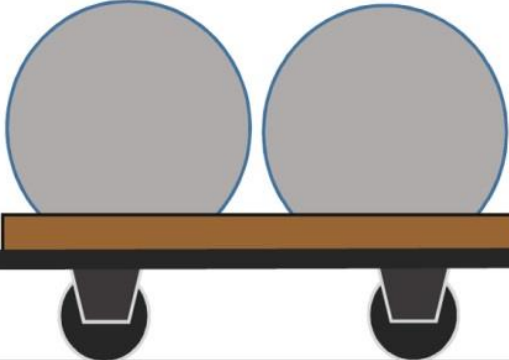
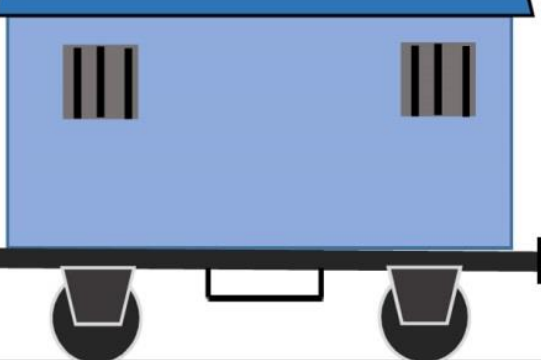



Le P'titou

13 postes

10 questions



	Poste 1- Balise 61 Comment s'appellent les 2 colonnes sur lesquelles sont inscrits les morts pour la France? Des... A- Obelix B- Obélisques C- O belles X	Poste 2- Balise 62 Combien de marches compte l'escalier de Macheville? A- 111 B- 173 C- 365	Poste 3- Balise 63 La chapelle derrière l'église se nomme des A- Saints Os B- Saintes Eaux C- Sains Os	Poste 4- Balise 64 Quelle date est inscrite au dessus d'une porte dans la montée du Rocher? A- 1815 B- 1787 C- 1798
	Poste 5- Balise 65 Le virage de la rue Jules Ferry, on dit qu'il est en épingle à ... A- nourrice B- cheveux C- linge		Poste 6- Balise 66 Peux tu compter combien de poissons il y a dans la fontaine du parc? A- 1 seul B- 2 ou 3 C- Plus de 5	
	Poste 7- Balise 67 Quel arbre n'est pas dans le parc Seignobos? A- Le Ginko Biloba B- Le Sequoia C- Le Baobab			Poste 10- Balise 73 Comment appelle-t-on la construction en gradin devant vous? A- Un amphithéâtre B- Une arène C- Un podium
	Poste 12- Balise 75 D'après l'inscription encore inscrite sur un portail de cette rue, le commerçant vendait: A- Du bois ? B- Du vin? C- Des meubles?	Poste 13- Balise 76 Combien de ponts enjambent la rivière? A- 2 B- 3 C- 4	Vous êtes arrivés !!! Combien de bonnes réponses avez-vous?	